

MAT 121 : Cálculo Diferencial e Integral II

Sylvain Bonnot (IME-USP)

2014

Resumo da ultima aula: funções $F : \mathbb{R} \rightarrow \mathbb{R}^3$

Teorema (regras de Leibniz (i.e derivadas de produtos))

Sejam $\vec{F}, \vec{G} : A \rightarrow \mathbb{R}^n$ e $f : A \rightarrow \mathbb{R}$ deriváveis em A . Então $f \cdot \vec{F}$ e $\vec{F} \cdot \vec{G}$ são também deriváveis e, se $n = 3$, $\vec{F} \times \vec{G}$ também, e:

- 1 $\frac{d}{dt}(f \cdot \vec{F}) = \frac{df}{dt} \cdot \vec{F} + f \cdot \frac{d\vec{F}}{dt}$
- 2 $\frac{d}{dt}(\vec{F} \cdot \vec{G}) = \frac{d\vec{F}}{dt} \cdot \vec{G} + \vec{F} \cdot \frac{d\vec{G}}{dt}$
- 3 $\frac{d}{dt}(\vec{F} \times \vec{G}) = \frac{d\vec{F}}{dt} \times \vec{G} + \vec{F} \times \frac{d\vec{G}}{dt}$

Uma curiosidade: so existe um produto vetorial em dim 1,3,7.

\times	e_1	e_2	e_3	e_4	e_5	e_6	e_7
e_1	0	e_3	$-e_2$	e_5	$-e_4$	$-e_7$	e_6
e_2	$-e_3$	0	e_1	e_6	e_7	$-e_4$	$-e_5$
e_3	e_2	$-e_1$	0	e_7	$-e_6$	e_5	$-e_4$
e_4	$-e_5$	$-e_6$	$-e_7$	0	e_1	e_2	e_3
e_5	e_4	$-e_7$	e_6	$-e_1$	0	$-e_3$	e_2
e_6	e_7	e_4	$-e_5$	$-e_2$	e_3	0	$-e_1$
e_7	$-e_6$	e_5	e_4	$-e_3$	$-e_2$	e_1	0

Funções de várias variáveis reais a valores reais

Exemplo: $f : \mathbb{R}^2 \rightarrow \mathbb{R}^2$

Definição

O domínio da função é o conjunto de todos os pontos $(x, y) \in \mathbb{R}^2$ tais que $f(x, y)$ é definida.

Exercício

Determine o domínio de $f(x, y) = \frac{x-y}{x+2y}$. Calcule $f(2u + v, v - u)$.

Exercício

Para $f(x, y) = 3x + 2y$, calcule $\frac{f(x, y+k) - f(x, y)}{k}$

Determinação do domínio

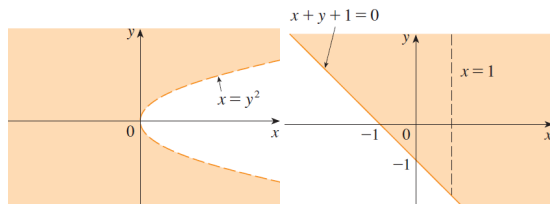


Figura : domínio de $f(x, y) = x \cdot \ln(y^2 - x)$ e de $f(x, y) = \frac{\sqrt{x+y+1}}{x-1}$

Exercício

Determine o domínio das funções abaixo:

$$f(x, y) = \sqrt{x + y}$$

$$f(x, y) = \sqrt{xy}$$

$$f(x, y) = \ln(9 - x^2 - 9y^2)$$

$$f(x, y) = \sqrt{y - x} \ln(y + x)$$

$$f(x, y) = \sqrt{1 - x^2} - \sqrt{1 - y^2}$$

Domínios de funções

Exercício

Represente graficamente o domínio de $z = f(x, y)$.

1 $\frac{x-y}{\sqrt{1-x^2-y^2}}$

2 $z^2 + 4 = x^2 + y^2, z \leq 0.$

3 $z = \sqrt{y-x^2} + \sqrt{2x-y}$

Definição

Uma função $f : A \subset \mathbb{R}^2 \rightarrow \mathbb{R}$ é homogênea de grau λ se

$$f(tx, ty) = t^\lambda f(x, y).$$

Exercício (Homogenização de um polinômio)

Seja $P(x)$ um polinômio de grau n . Mostre que $y^n \cdot P(x/y)$ é homogênea de grau n .

Exemplos de funções homogêneas

Exercício

Verifique se f é homogênea:

① $f(x, y) = \frac{x^3 + 2xy^2}{x^3 - y^3}$

② $f(x, y) = \sqrt{x^4 + y^4}$.

③ $f(x, y) = 5x^3y + x^4 + 3$.

Gráficos de funções $f : \mathbb{R}^2 \rightarrow \mathbb{R}$

Definição

O gráfico de $f : \mathbb{R}^2 \rightarrow \mathbb{R}$ é o conjunto

$$\{(x, y, z) \in \mathbb{R}^3; z = f(x, y) \text{ onde } (x, y) \in D_f\}.$$

Exercício

Esboce o gráfico das funções abaixo:

$$f(x, y) = 3$$

$$f(x, y) = 10 - 4x - 5y$$

$$f(x, y) = y^2 + 1$$

$$f(x, y) = 4x^2 + y^2 + 1$$

$$f(x, y) = \sqrt{16 - x^2 - 16y^2}$$

$$f(x, y) = \sqrt{x^2 + y^2}$$

$$22. f(x, y) = y$$

$$24. f(x, y) = \cos x$$

$$26. f(x, y) = 3 - x^2 - y^2$$

Gráficos de funções $f : \mathbb{R}^2 \rightarrow \mathbb{R}$: alguns gráficos detalhados

Gráfico de: $f(x, y) = 4x^2 + y^2 + 1$

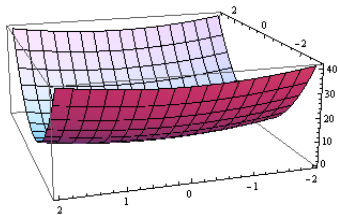



Gráfico de: $f(x, y) = \sqrt{16 - x^2 - 16y^2}$



Gráficos de funções $f : \mathbb{R}^2 \rightarrow \mathbb{R}$: reconhecer um gráfico

Método 1: desenhar algumas cortes do gráfico com planos verticais ($x = \text{constante}$) e ($y = \text{constante}$).

Exercício

Quais são os gráficos das funções abaixo?

$$f(x, y) = |x| + |y|$$

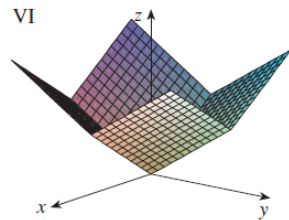
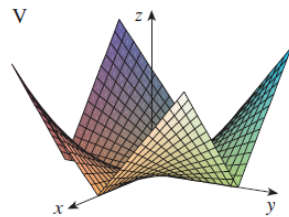
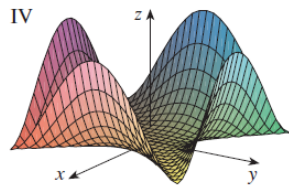
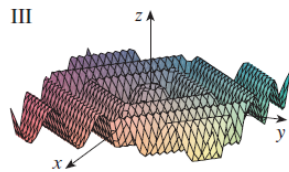
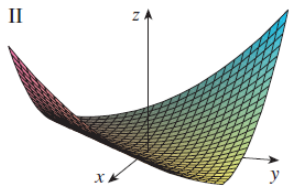
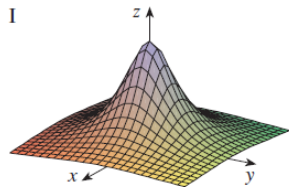
$$f(x, y) = |xy|$$

$$f(x, y) = \frac{1}{1 + x^2 + y^2}$$

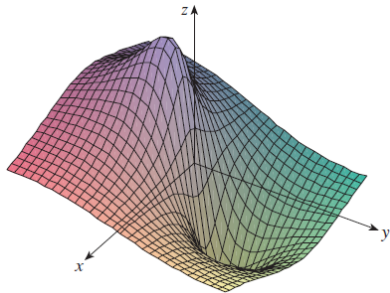
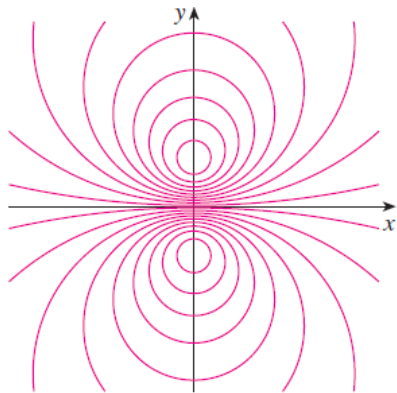
$$f(x, y) = (x^2 - y^2)^2$$

$$f(x, y) = (x - y)^2$$

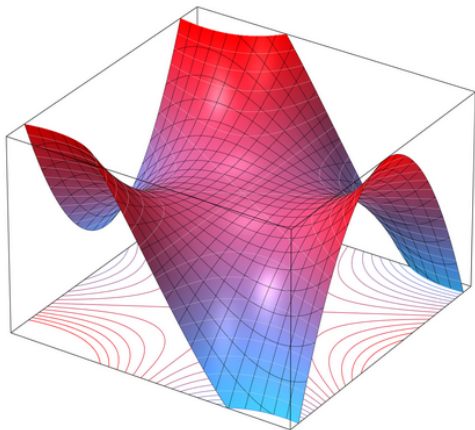
$$f(x, y) = \sin(|x| + |y|)$$



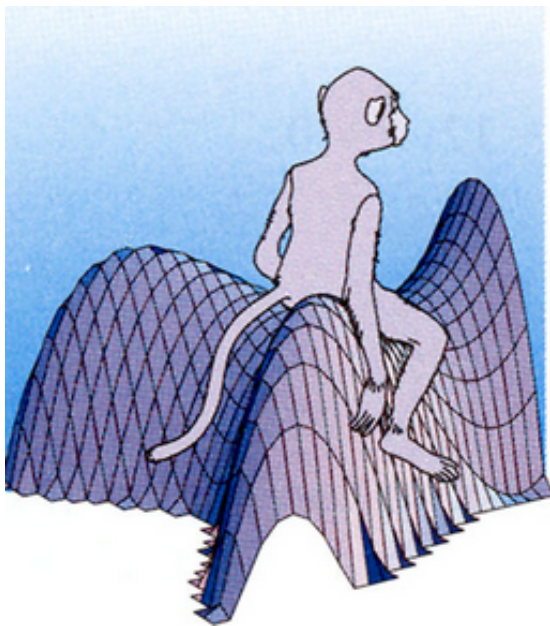
As duas representações juntas: $f(x, y) = \frac{-3y}{x^2+y^2+1}$



O gráfico de $f(x, y) = xy^2 - x^3$



O gráfico de $f(x, y) = xy^2 - x^3$



Exercício

Faça o mapa de contorna das funções:

$$f(x, y) = (y - 2x)^2$$

$$f(x, y) = x^3 - y$$

$$f(x, y) = y - \ln x$$

$$f(x, y) = e^{y/x}$$

$$f(x, y) = ye^x$$

$$f(x, y) = y \sec x$$

$$f(x, y) = \sqrt{y^2 - x^2}$$

$$f(x, y) = y/(x^2 + y^2)$$

Exercício

Faça uma correspondência entre as funções e os mapas de contorno.

$$z = \sin(xy)$$

$$z = \sin(x - y)$$

$$z = (1 - x^2)(1 - y^2)$$

$$z = e^x \cos y$$

$$z = \sin x - \sin y$$

$$z = \frac{x - y}{1 + x^2 + y^2}$$

Reconhecer os mapas de contorno

